

# Orientace a práce s mapou

Ročník: 3.

Předmět: Přírodověda a prvouka

Číslo šablony

VY\_52\_INOVACE\_PR.12



## Anotace

Žáci si prohlubují znalosti v orientaci v terénu, pracují s mapou a světovými stranami.

Vypracoval: **Jan Kadeřábek**

Datum: Srpen 2011

# Citace použitých materiálů


čnicku. *Základní škola Beroun* [online]. 2011[cit. 2011-08-29]. Dostupné z:  
<http://www.3zsberoun.com/view.php?cisloclanku=2012052402>

Člověk a jeho svět. *Výukové materiály ZŠ Kaplice* [online]. 2011 [cit. 2011-08-29]. Dostupné z:  
<http://www.vyukovematerialy.cz/svet/rocnik3/misto1.htm>

Teplýšovice. *Google maps* [online]. 2011[cit. 2011-08-29]. Dostupné z:  
<http://maps.google.cz/maps?num=10&hl=cs&biw=1280&bih=675&q=turistick%C3%A9+zn%C4%8Dky&ie=UTF-8&sa=N&tab=il>

# Orientace a práce s mapou

Doplň do směrové růžice názvy světových stran pomocí zkratky. Zkratku pak zaznamenej do tabulky a napiš k ní celým slovem název.


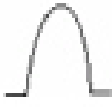
























| <i>Zkratka</i> | <i>Celý název</i> |
|----------------|-------------------|
|                |                   |
|                |                   |
|                |                   |
|                |                   |
|                |                   |
|                |                   |
|                |                   |


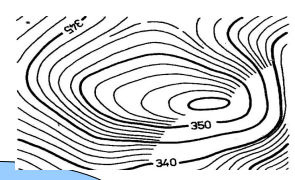
Vypiš do tabulky zkratku a název čtyř základních (hlavních) světových stran v angličtině.

| <i>Angl. zkratka</i> | <i>Anglický název</i> |
|----------------------|-----------------------|
|                      |                       |
|                      |                       |
|                      |                       |

Do tabulky pojmenovávej názvy topografických značek, které můžeš vidět na turistických mapách.

|  |   |  |   |  |   |
|--|---|--|---|--|---|
|  |    |  |    |  |    |
|  |    |  |    |  |    |
|  |    |  |    |  |    |
|  |    |  |    |  |    |
|  |   |  |   |  |   |
|  |  |  |  |  |  |
|  |  |  |  |  |  |
|  |  |  |  |  |  |

Vysvětli co je to VRSTEVNICE a co nám značí na mapě.



**Pokus se podle fotografie nakreslit mapu obce, ve které chodíš do školy.**

