

Vesmír

Ročník: 5.

Předmět: **Přírodověda a prvouka**

Číslo šablony

VY_52_INOVACE_PR.26



Anotace

Šablona je zaměřena na téma vesmír, sluneční soustava. Pozorování hvězdné oblohy a její přeměny dle ročních období.

Vypracoval: **Jan Kadeřábek**

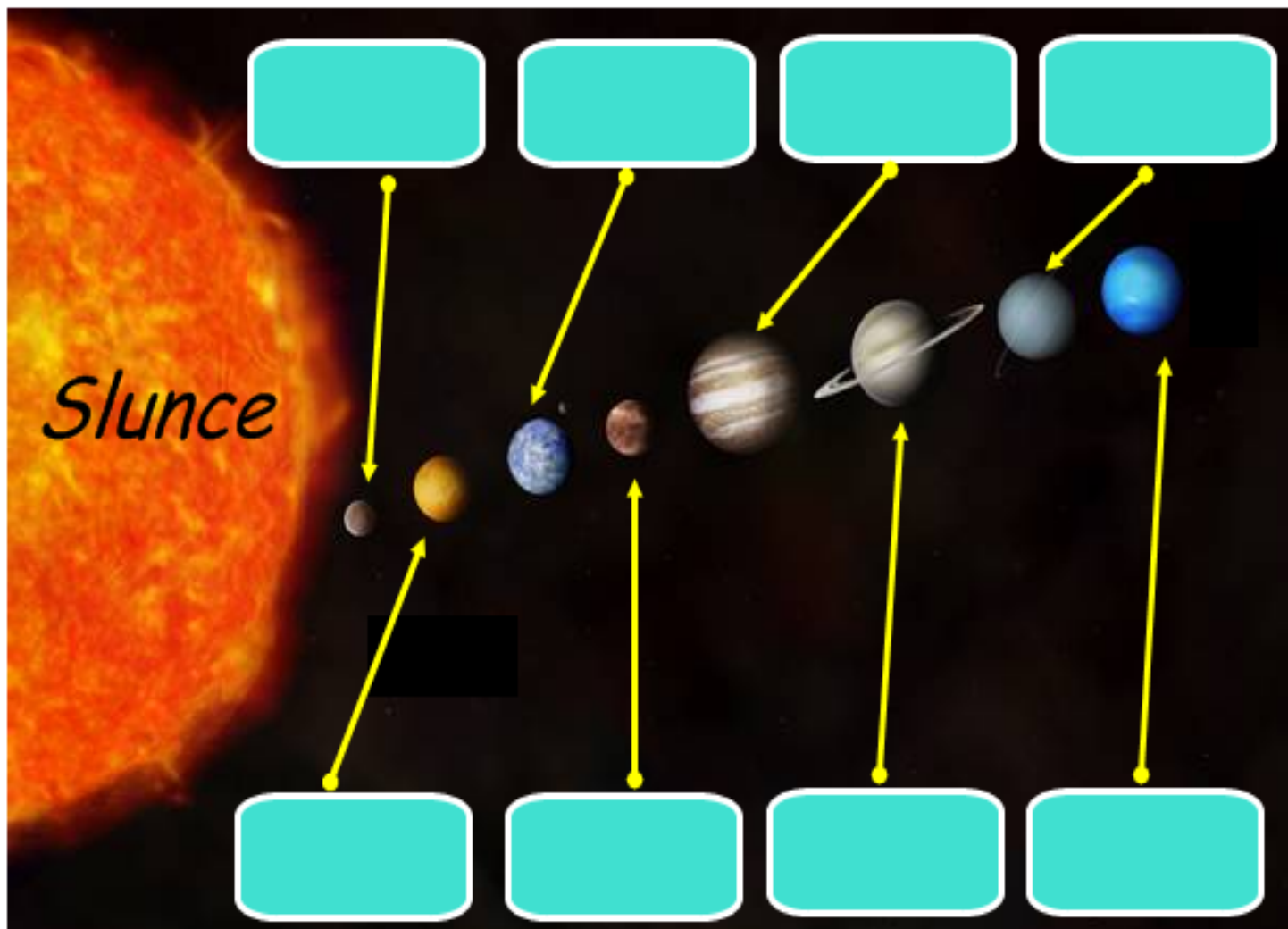
Datum: Září 2011

Citace použitých materiálů

Sluneční soustava. *Sluneční soustava* [online]. 2007 [cit. 2011-09-12]. Dostupné z: <http://slunecni.soustava.sweb.cz/>

Vesmír

Popiš planety Sluneční soustavy a do tabulky do šedých okének napiš skupenství jakého jsou pak je rozříd'.




Nakresli a pojmenuj 4 fáze měsíce


Doplňuj do tabulky údaje

<i>Země se otočí kolem své osy za . . .</i>	
<i>Měsíc oběhne Zemi za . . .</i>	
<i>Země oběhne kolem slunce za . . .</i>	
<i>Jedna čtvrt' měsíce se dovrší za . . .</i>	
<i>Jarní rovnodennost nastává . . .</i>	
<i>Zimní slunovrat nastává . . .</i>	
<i>Podzimní rovnodennost nastává . . .</i>	
<i>Letní slunovrat nastává . . .</i>	

Nakresli 3 letní souhvězdí a pojmenuj je



Nakresli 3 zimní souhvězdí a pojmenuj je



Nakresli 3 stálá souhvězdí a pojmenuj je

