

# Evropa – Sousední státy IV.

Ročník: 5.

Předmět: Vlastivěda (zeměpisná část)

Číslo šablony

VY\_52\_INOVACE\_VL.45.18



## Anotace

Žáci pracují s pojmem Evropa jako světadíl jehož jsme součástí. Dozívají se informace o Evropě co do počtu zemí jazyků a členění podle polohy jednotlivých států. Rozšiřují si tím znalosti sahající za hranice našeho státu. Základním parametrem je snaha dozvědět se něco o svém okolí svého státu a států sousedících.

Vypracoval: **Jan Kadeřábek**

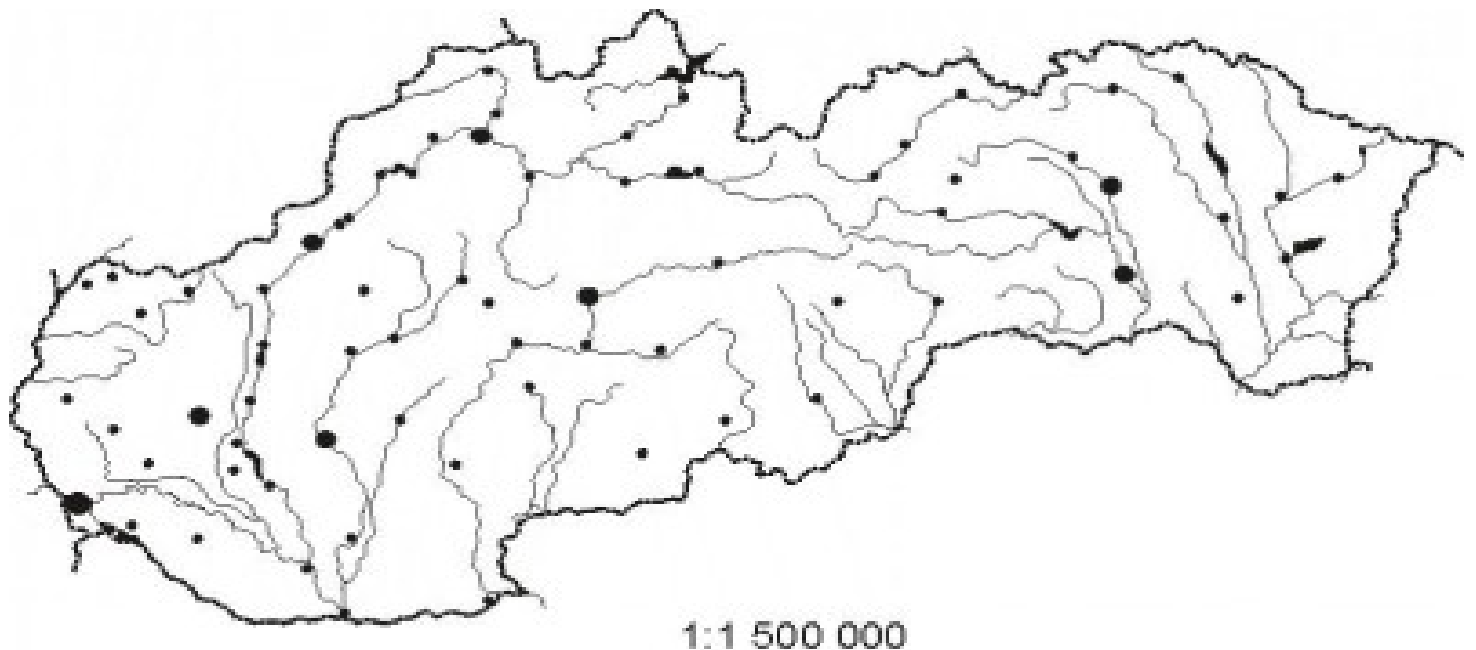
Datum: Říjen 2011

## Citace použitých materiálů

Mapa školiacich centier. *Modernizacia Vzdelavania* [online]. 2012 [cit. 2012-06-29].  
Dostupné z: <http://www.modernizaciavzdelavania.sk/LearningCenterOverview.aspx>

## Evropa – Sousední státy IV.

Podívej se na tvar tohoto státu a urči podle atlasu nebo učebnice o jaký stát se jedná.



**Jak se jmenuje tento stát**

**Hlavní město**


**Počet obyvatel**

**Oficiální název státu**


**Členění uzemních celků**

**Do rámečků nakresli vlajku a znak tohoto státu**

*Vlajka*



*Znak*



**Ve školním atlase nebo zeměpisném slovníku vyhledej 5 největších měst, zakresli si je do mapy na předchozím listě a zaznamenej do tabulky**

<i>Název města</i>	<i>Počet obyvatel</i>