

Evropské pohoří

Ročník: 5.

Předmět: Vlastivěda (zeměpisná část)

Číslo šablony

VY_52_INOVACE_VL.45.23



Anotace

Šablona je zaměřena na poznání velkých evropských horských masivů. Jejich největších vrcholů a polohy na evropském kontinentě. Pomocí grafického znázornění samotnými žáky a vyhledávání v mapách a atlasech si žáci upevňují své znalosti o celkové geografii evropského kontinentu.

Vypracoval: **Jan Kadeřábek**

Datum: Prosinec 2011

Citace použitých materiálů

Graphics Maps [online]. 2002 [cit. 2011-04-12]. Europe Dostupné z WWW:
<<http://www.graphicsmaps.com>>.






Evropské pohoří

Odstíny hnědé pastelky zakresli největší horské útvary do mapy. Pak je pojmenuj a zaznamenej do mapy a do tabulky pod ní.

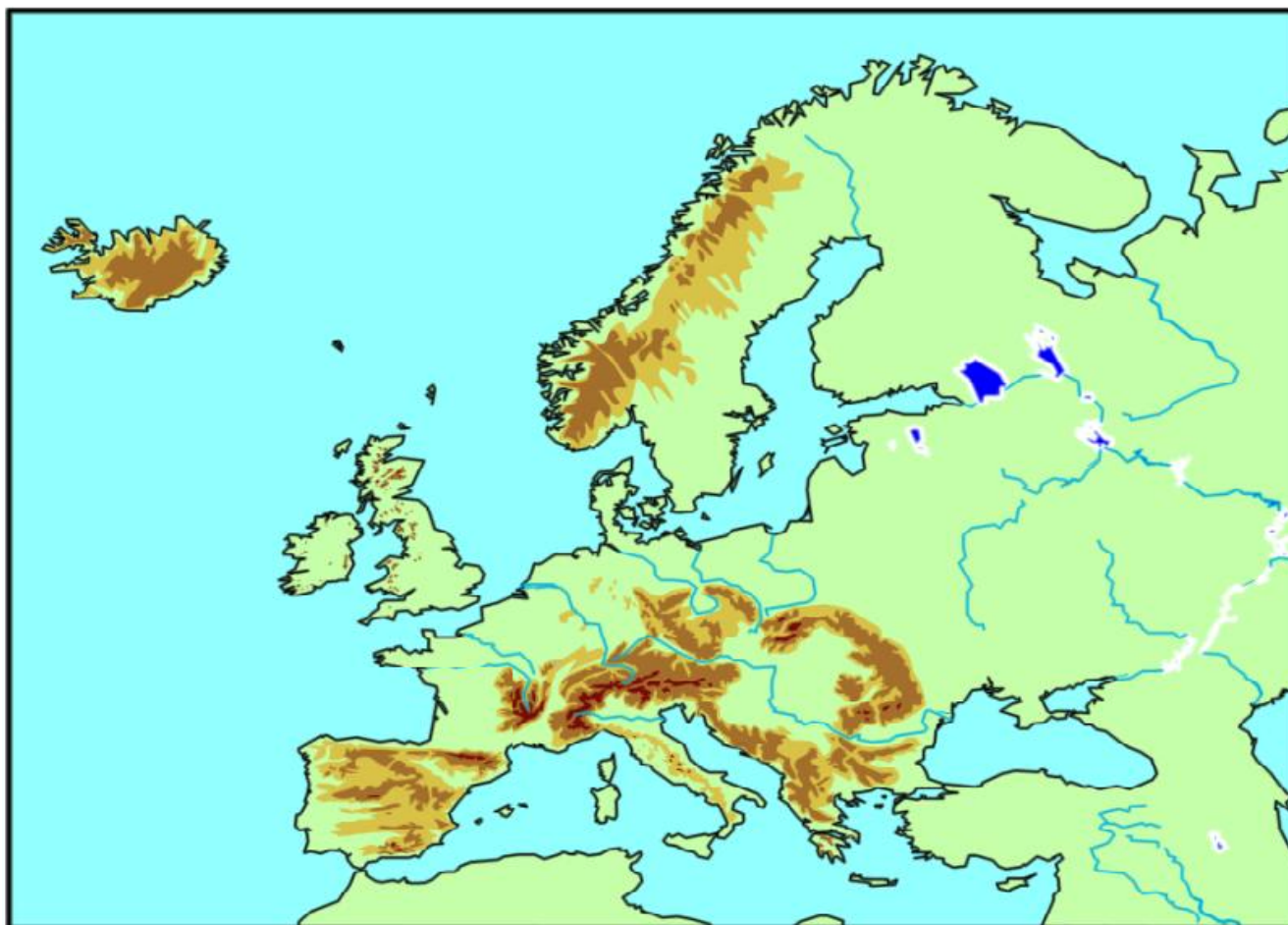


Pohoří	Nejvyšší vrchol	Nadmořská výška [m]

Jednotlivé horské masivy z předešlého listu vypiš do připravených rámečků a pomocí internetu nebo encyklopedie zjisti jak vznikaly a v jaké době.



List pro učitele



Alpy

Mont Blanc (4 808 m)

Karpaty

Gerlachovský štít (2 655 m)

Pyreneje

Pico de Anto (3 404 m)

Skandinávské pohoří

Galdhøpiggen (2 469 m)

Gllitertind (2 469 m)

Pohoří Balkán

Musala (2 925 m)