

# Tajenka 8 – města v kraji

Ročník: 5.

Předmět: Vlastivěda (zeměpisná část)

Číslo šablony

VY\_52\_INOVACE\_VL.5.12



## Anotace

Procvičení formou tajenky jednotlivých měst v kraji. Podle legendy ve které je město popsáno si žáci spojují jednotlivé zajímavosti patřící k danému městu. ( známé osoby, průmysl, památky, rodiště, polohu nebo jen jiný název v cizím jazyce ve městech ležících u hranic nebo v její blízkosti)

Pracovat je možno na pracovním listě nebo na interaktivní tabuli pro spěšší výuky.

Vypracoval: **Jan Kadeřábek**

Datum: březen 2012

# Citace použitých materiálů

*Old chmi* [online]. 2001 [cit. 2011-04-20]. Předpověď počasí. Dostupné z WWW:  
<[http://old.chmi.cz/meteo/om/cr/pre\\_S.html](http://old.chmi.cz/meteo/om/cr/pre_S.html)>.

## Města v krajích – tajenka 8

Podle čísel erbů vepiš města do křížovky. Vyluštěním získáš kraj jehož jsou součástí.




1



2



3



4



5



6



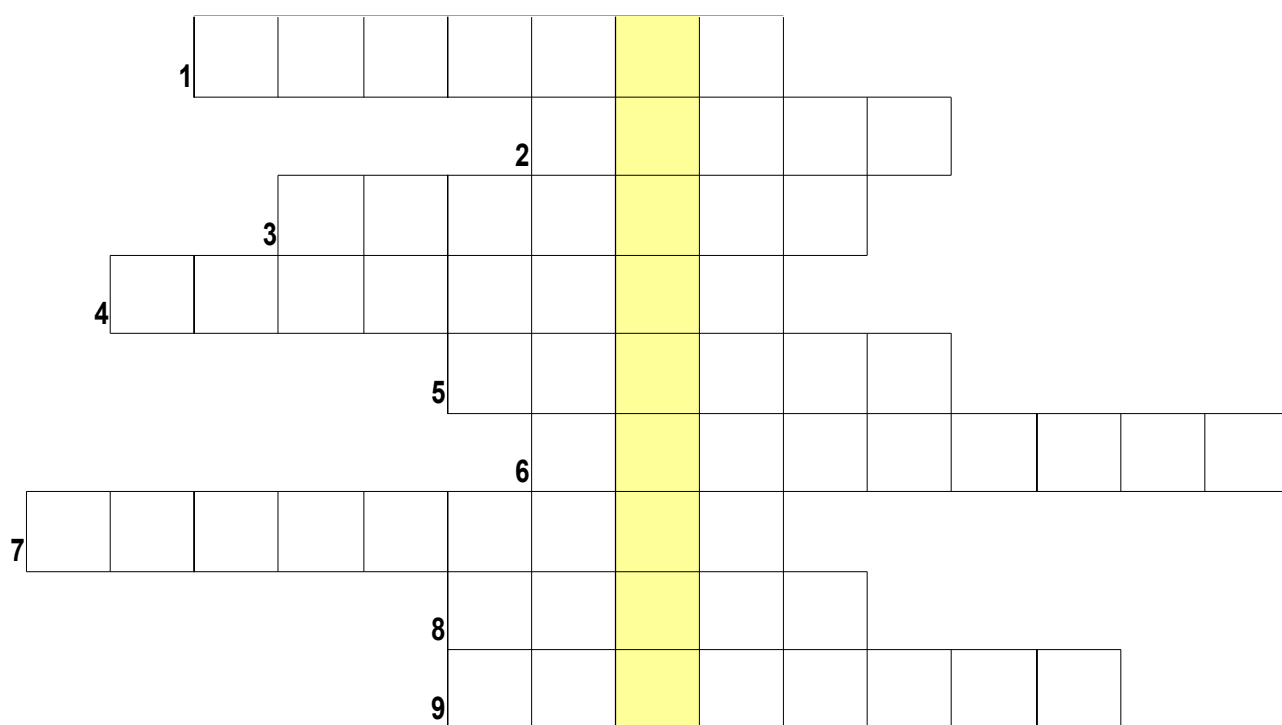
7




8



9



**Žáci si vyhledají v daném kraji další město v předešlé části nezmiňované, a pak pomocí knihy, atlasu nebo internetu zjistí a pokusí nakreslit, napsat a vysvětlit co erb symbolizuje.**



**Jednotlivé části znamenají:**