

# Slované

Ročník: **4.**

Předmět: **Vlastivěda ( dějepisná část)**

Číslo šablony

VY\_52\_INOVACE\_VLD.45.05



INVESTICE DO ROZVOJE VZDĚLÁVÁNÍ

## Anotace

Žáci metodou projektu postupně pracují s tématem. Úkoly žáci řeší od začátku postupně, v nesnážích děti podporujeme, by si odpověď a informaci zjistily pomocí encyklopedií nebo internetu.

Vypracoval: **Jan Kadeřábek**

Datum: únor 2011

# Citace použitých materiálů

Zsvltava: Informatika. [online]. 2011 [cit. 2011-02-17]. Dostupné z: <http://www.zsvltava.cz/informatika/index.php>

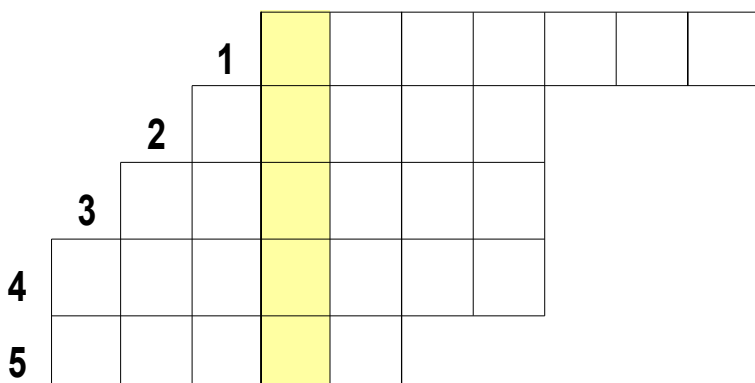
# Slované

## Doplň chybějící slova v textu, tak aby dával smysl.

První Slované přišli do českých zemí z \_\_\_\_\_ asi v \_\_\_\_\_ století z Pravlasti Slovanů. Ta se nacházela přibližně mezi řekami \_\_\_\_\_ a \_\_\_\_\_. Slovanské kmeny hovořily společným jazykem, který nazýváme \_\_\_\_\_. Hlavním způsobem obživy byl chov \_\_\_\_\_, \_\_\_\_\_, \_\_\_\_\_ a lov \_\_\_\_\_.




## Vylušti tajenku.

1. Bůh lesa zobrazován s pěti hlavami
2. Ochránce stád
3. Ztělesněním smrti a zimy byla bohyně
4. Bůh lesa jenž byl uctíván v Garsu v Rugii. Patrně byl totožný s estonským bohem Tarapitou
5. Bohyně mládí, života, mladé nespoutané lásky ajara



Nejvýznamnějším bohem západních Slovanů byl \_\_\_\_\_.

Vybarvuj různými pastelkami různé větve slovanských kmenů.

	Jižní Slované
	Východní Slované
	Západní Slované



Slovanské státy si vypiš.