

Třicetiletá válka

Číslo šablony

VY_52_INOVACE_VLD.45.18



Ročník: **5.**

Předmět: **Vlastivěda (dějepisná část)**

Anotace

Žáci pracují s tématem Třicetileté války , opakují si známé věci a zjišťují nové souvislosti, které se většinou neozvědí při hodinách. Pomocí pracovních listů jsou vedeni k vyhledání a získání informací v encyklopediích, knihách nebo na internetu.

Vypracoval: **Jan Kadeřábek**

Datum: červen 2012

Citace použitých materiálů




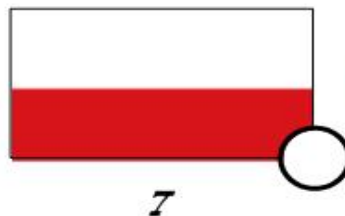
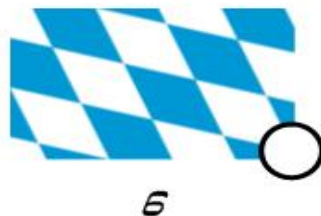
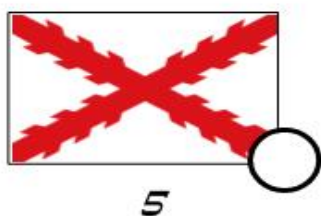
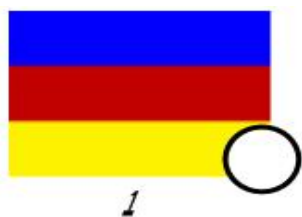
Třicetiletá válka. In: *Wikipedia: the free encyclopedia* [online]. San Francisco (CA): Wikimedia Foundation, 2001- 2012, 19.7. 2012 [cit. 2012-07-23]. Dostupné z:
http://cs.wikipedia.org/wiki/T%C5%99icetilet%C3%A1_v%C3%A1lka

Mapa 30 leté války. In: *Wikipedia: the free encyclopedia* [online]. San Francisco (CA): Wikimedia Foundation, 2001- 2012, 19.7. 2012 [cit. 2012-07-23]. Dostupné z:
http://cs.wikipedia.org/wiki/Soubor:Map_Thirty_Years_War_cs.svg

Albrecht Wallenstein. In: *Wikipedia: the free encyclopedia* [online]. San Francisco (CA): Wikimedia Foundation, 2001- 2012, 19.7. 2012 [cit. 2012-07-23]. Dostupné z:
http://cs.wikipedia.org/wiki/Soubor:Albrecht_Wallenstein.jpeg

Třicetiletá válka

Doplňuj jména, která chybí v textech do tajenky. Zjisti v knížce nebo na internetu, kterým státům válčících ve třicetileté válce patří tyto vlajky. Kroužek u vlajky vybarvi červeně pro stranu protihabsburskou a modře spojence s Habsburskou monarchií.



| číslo | název státu |
|-------|-------------|
| 1 | |
| 2 | |
| 3 | |
| 4 | |
| 5 | |
| 6 | |
| 7 | |
| 8 | |
| 9 | |
| 10 | |
| 11 | |
| 12 | |

Pokus se podle mapy pojmenovat jednotlivé fáze Třicetileté války. Zaznamenej jejich název a období kdy probíhaly.



Název válečné fáze

Datum

1

2

3

4

5

Na obrázku je postava proslavená Třicetiletou válkou. Zjisti kdo to je? A napiš něco o jeho životě.



Nakresli mapku místa, kde proběhla významná bitva Třicet. války v roce 1645 6. března. Napiš o ni nějaké informace.