

České dějiny v tajenkách

Číslo šablony

VY_52_INOVACE_VLD.45.23



Ročník: **5.**

Předmět: **Vlastivěda (dějepisná část)**

Anotace

Žáci pracují s tématem, opakují si známé věci a zjišťují nové souvislosti, které se většinou nedozvědí při hodinách. Pomocí pracovních listů jsou vedeni k vyhledání a získání informací v encyklopediích, knihách nebo na internetu.

Vypracoval: **Jan Kadeřábek**

Datum: červen 2012

Citace použitých materiálů

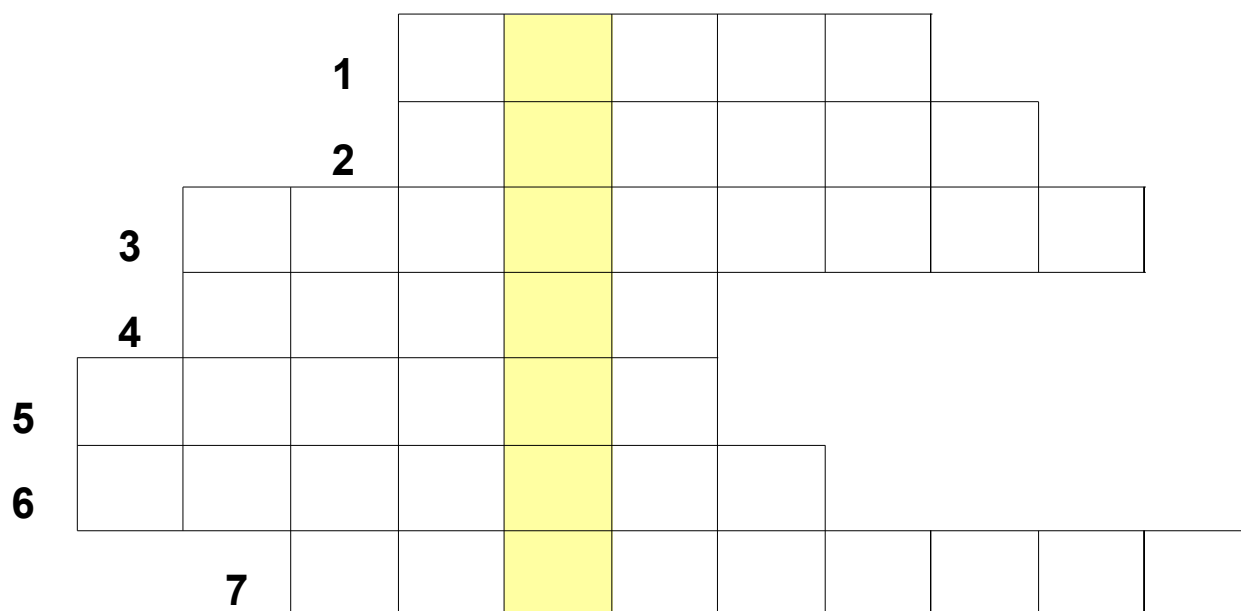
ŠVARCOVÁ, Marie. Dějiny českých zemí: od Sámovy říše po vznik České republiky. 2. vyd. Praha: Sun, 2011. ISBN 978-80-7371-402-4

Historie. Zámek Konopiště [online]. 2012. vyd. [cit. 2012-08-21]. Dostupné z: <http://www.zamek-konopiste.cz/historie/>

České dějiny v tajenkách

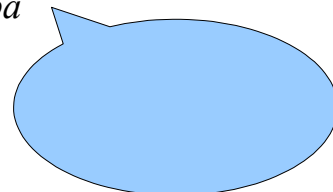
Vyluštěním tajenky zjistíš název kruhových staveb v Románském slohu.

- 1. Napiš příbuzenský stav Václava a Boleslava I.*
- 2. První panovník Velké Moravy*
- 3. Poslední panovník na Velké Moravě*
- 4. Slovanský bůh hromu a blesku*
- 5. Slovanská bohyně smrti a zimy*
- 6. Spolupracovník Cyrila*
- 7. První sestavené písmo na Velké Moravě*

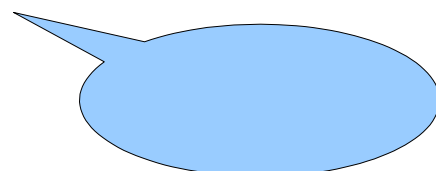


Na obrázku je jedna z nejznámějších románských staveb v České republice.

Jak se jmenuje tato stavba



Jak se jmenuje hora na jejíž vrcholu se nachází

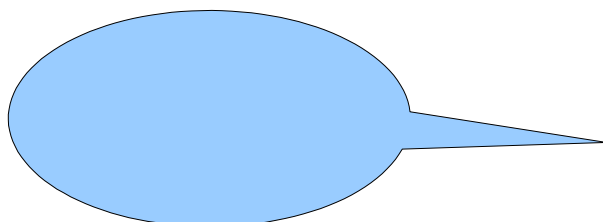
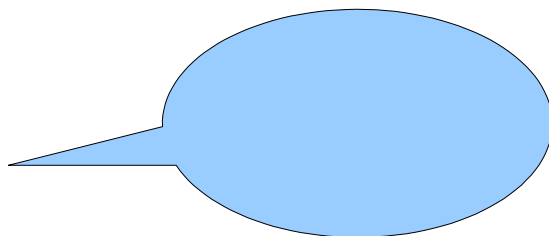


Vyškrtej všechna jména, českých panovníků. Pak si po řádcích vypiš písmena, která ti zbydou. Výsledkem bude osoba, která se nikdy panovníkem nestala, i když byla pro tento post vyvolena.

R	F	R	I	D	R	I	C	H	Boleslav
U	A	F	R	A	B	K	N	B	Bořivoj
D	T	S	I	Š	O	A	E	O	Fridrich
O	K	F	T	E	L	R	F	Ř	Josef
L	M	A	R	I	E	E	R	I	Karel
F	L	A	D	I	S	L	A	V	Ladislav
D	I	N	A	O	L	L	N	O	Marie
D	'	E	J	S	A	T	A	J	Rastislav
V	Á	C	L	A	V	E	■	V	Rudolf
									Václav

Tajenka: _____

S touto osobou je úzce spjata i stavení na obrázku.



U jakého města se tento zámek nachází.