

# ČSR – samostatný stát

Číslo šablony

VY\_52\_INOVACE\_VLD.45.26



Ročník: **5.**

Předmět: **Vlastivěda ( dějepisná část)**

## Anotace

Žáci pracují s tématem, opakují si známé věci a zjišťují nové souvislosti, které se většinou nedozvědí při hodinách. Pomocí pracovních listů jsou vedeni k vyhledání a získání informací v encyklopediích, knihách nebo na internetu.

Vypracoval: **Jan Kadeřábek**

Datum: červen 2012

# Citace použitých materiálů



Krajané ve Spojených státech. *Krajane.net* [online]. 2004 [cit. 2012-07-06]. Dostupné z:  
<http://www.krajane.net/articleDetail.view?id=1458>

Velký znak Československé republiky. In: *Wikipedia: the free encyclopedia* [online]. San Francisco (CA): Wikimedia Foundation, 2012 [cit. 2012-10-06]. Dostupné z:  
[http://cs.wikipedia.org/wiki/Velik%C3%BD\\_znak\\_republiky\\_%C4%8Ceskoslovensk%C3%A9](http://cs.wikipedia.org/wiki/Velik%C3%BD_znak_republiky_%C4%8Ceskoslovensk%C3%A9)

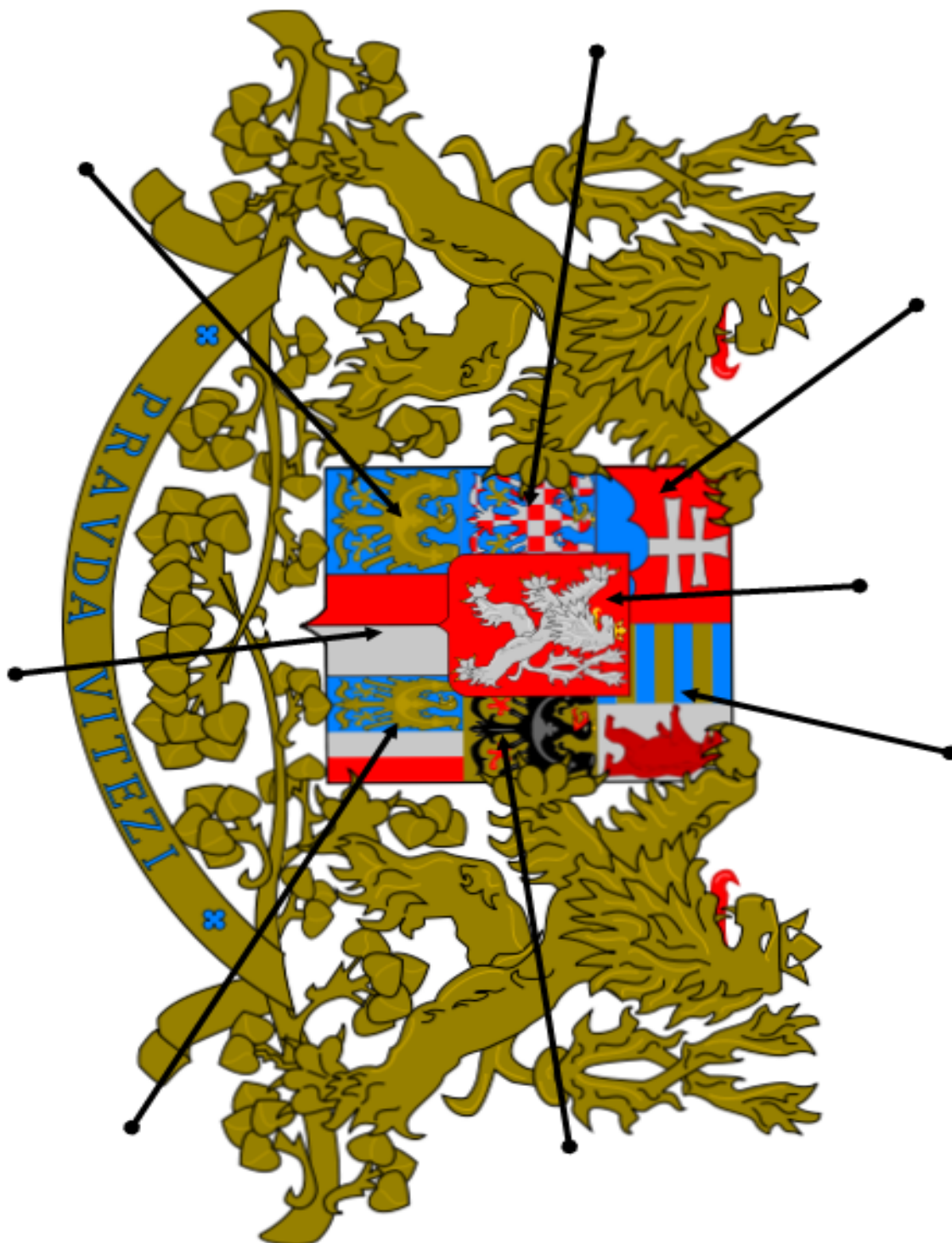
Czechoslovakia. *Wikia* [online]. 2012 [cit. 2012-07-06]. Dostupné z:  
<http://turtledove.wikia.com/wiki/Czechoslovakia>

# ČSR – Samostatný stát

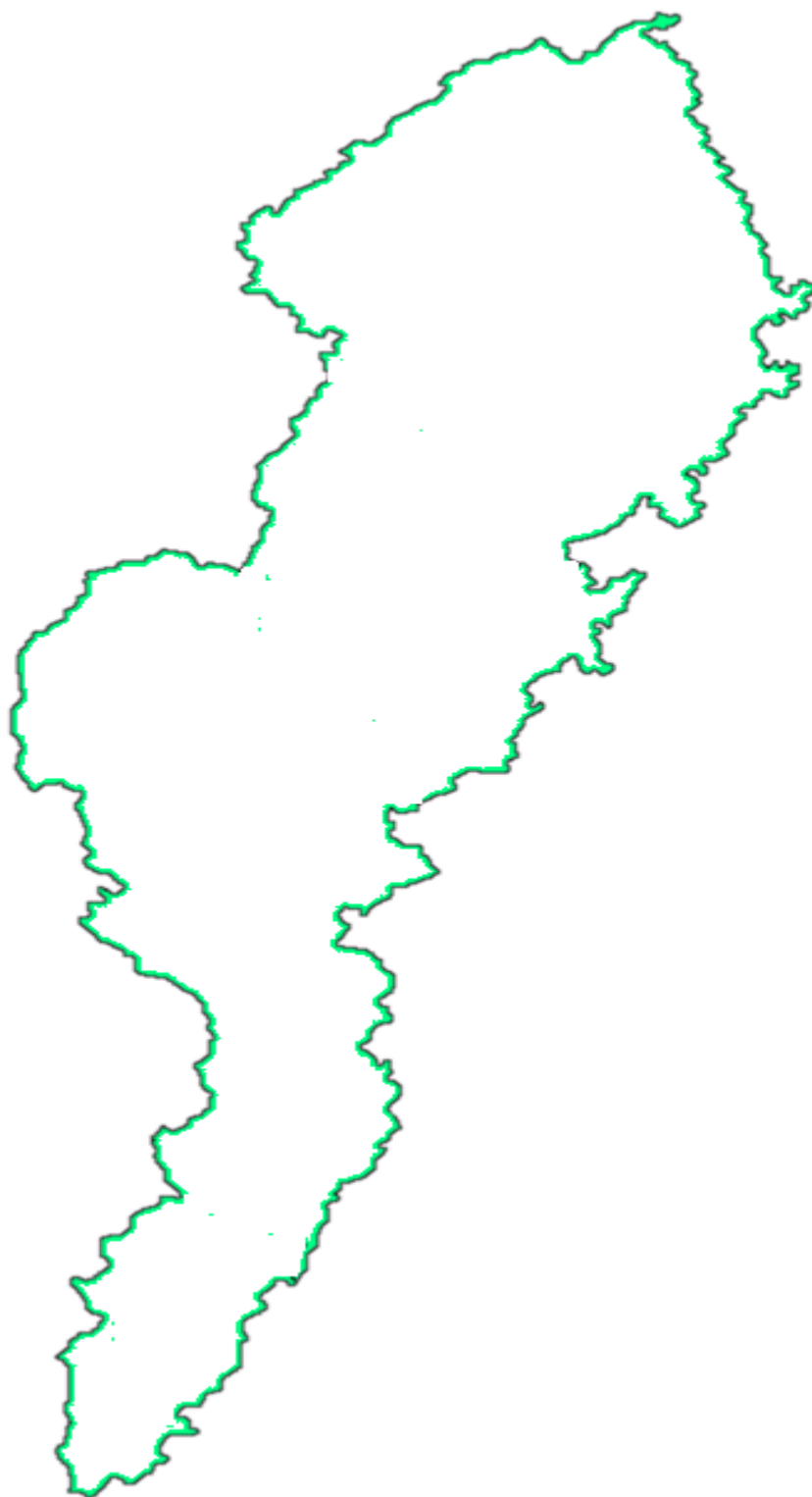
*Popisuj co vidíš na plakátu z doby vzniku samostatného Československa*



*Jmenuj jednotlivé území ČSR podle velkého státního znaku*



*Vyznač a pojmenuj jednotlivé území dle státního znaku do mapy.*



*Do rámečku napiš celé datum, kdy byla vyhlášena nezávislá Československá republika.*

Three overlapping yellow rectangular boxes provided for writing the date of the declaration of the independent Czechoslovak Republic.