

Gotika

Číslo šablony

VY_52_INOVACE_VLD.45.33



INVESTICE DO ROZVOJE VZDĚLÁVÁNÍ

Ročník: **4.**

Předmět: **Vlastivěda (dějepisná část)**

Anotace

Formou práce ve skupinách můžeme použít jako projektové vyučování, kde do výuky zapojíme a prolne více předmětů. Celé téma roztáhneme do více hodin během dne.

Vypracoval: **Jan Kadeřábek**

Datum: únor 2012

Citace použitých materiálů

Bloggar. *BortaBra* [online]. 2011 [cit. 2012-02-26]. Dostupné z: <http://www.bortabra.se/bloggar/gorans-reseblogg/och-varldens-vackraste-slott-ar/>

More On Versailles. *Tripadvisor* [online]. 2012 [cit. 2012-02-26]. Dostupné z: http://www.tripadvisor.com/LocationPhotos-g187148-d220228-Eglise_Notre_Dame-Versailles_Ile_de_France.html

Durham University Museum of Archaeology. In: *Wikipedia: the free encyclopedia* [online]. San Francisco (CA): Wikimedia Foundation, 2001- [cit. 2012-02-26]. Dostupné z: http://en.wikipedia.org/wiki/Durham_University_Museum_of_Archaeology

Carcassone. *CK SLAN tour* [online]. 2010 [cit. 2012-02-26]. Dostupné z: <http://francie.slantour.cz/regiony-carcassonne.php>

Gotika. *Architektonické slohy* [online]. 2011 [cit. 2012-02-26]. Dostupné z: <http://www.archslohy.estranky.cz/fotoalbum/gotika/katedrala-v-seville-.html>


Atlante dell arte italiana [online]. 2011 [cit. 2012-02-26]. Dostupné z: <http://www.atlantedellarteitaliana.it/artwork-4637.html>

Warwick Castle's Ghost Tower. *Time travel - Britain* [online]. 2006 [cit. 2012-02-26]. Dostupné z: <http://www.timetravel-britain.com/articles/castles/warwick.shtml>

Gotické okno. *Fler* [online]. 2006 [cit. 2012-02-26]. Dostupné z: <http://www.fler.cz/zbozi/goticke-okno-1168758>

Gotika

Napiš a zjisti nějaké informace o stavitelích působících na našem území. Jako nadpisy užíj jména psaná v gotickém písmu.




Vyhledej si místa těchto gotických staveb v Evropě a umísti je na mapu a vyznač místo, kde se nalézají. Jednu ze staveb si vyber a seznam s ní ostatní.

- Notre Dame
- Santa Maria Del Fiore
- Katedrála v Seville
- Katedrála sv. Víta
- Katedrála v Durhamu
- Hrad Carcassone
- Hrad Warwick
- Hrad Malbork



Přiřad' k obrázkům jejich názvy z předchozího listu




Pokuste se

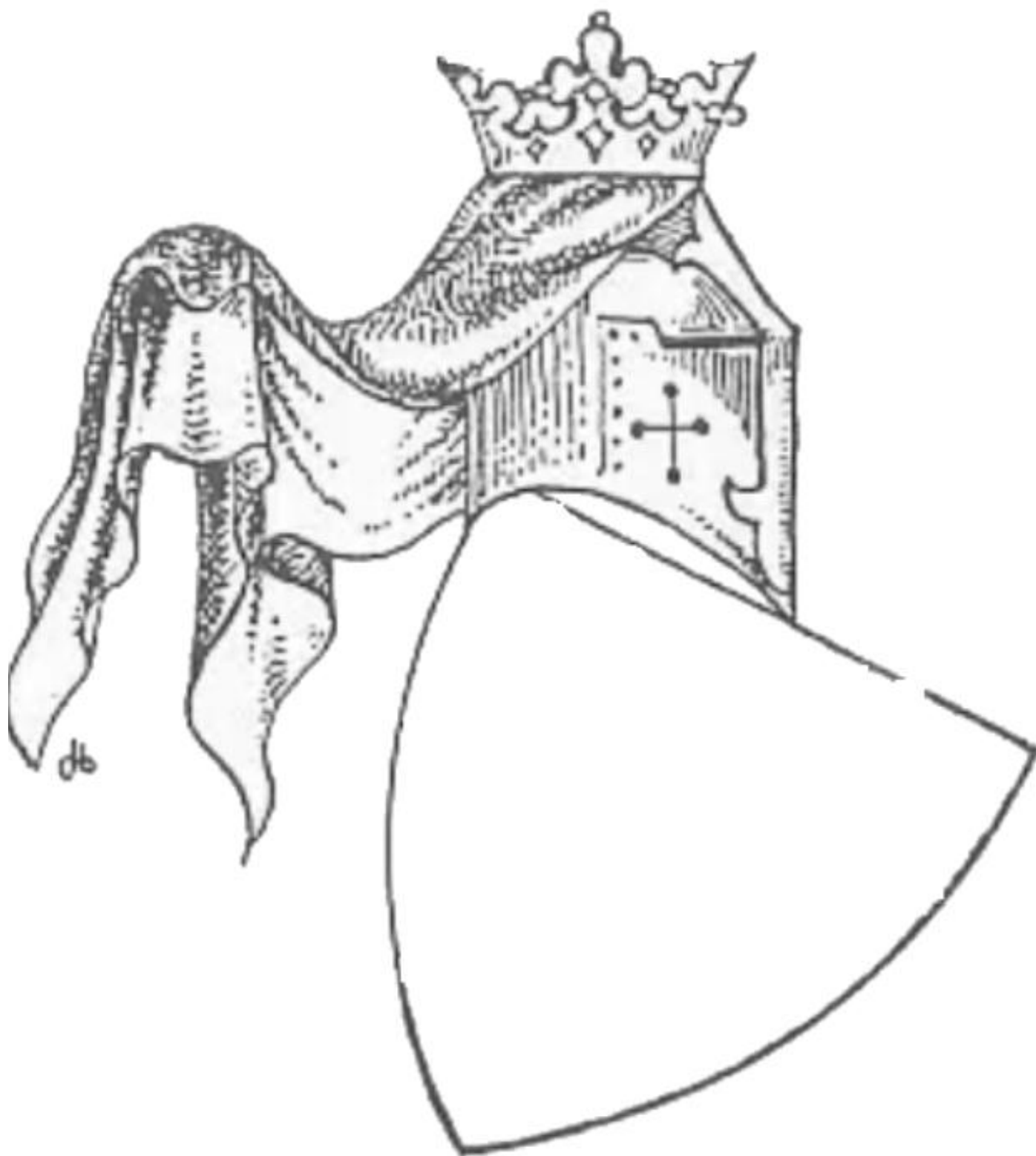
podle obrázku narýsovat plán tohoto okna a poté ho vyrobte z kartonového papíru v minimální velikosti 90 m.



Na obrázku jsou jednotlivé stavební prvky. Popište je a napište jejich název



Dokresli erb rodu, který vládl v Čechách, když se zde začala rozšiřovat gotika.



Jméno tohoto rodu





Poskládejte Puzzle a z vystříhaných písmen slož název co je na obrázku. Slovo nalep do nachystaných rámečků.

--	--	--	--

--	--	--

--	--	--	--	--	--	--

o	r	b	a	v	s	
---	---	---	---	---	---	---

.		r	y	r	á	m
---	---	---	---	---	---	---

